

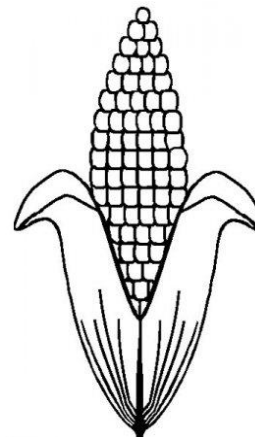


SEMANA 18/08 A 24/08/2020: ATIVIDADE 01

ALUNO (A): (NOME COMPLETO): _____

POEMA DO MILHO

QUEM TEM MILHO TEM FARINHA,
TEM CANJICA, TEM CURAU,
TEM BOLO, CUZCUZ, FAROFA,
POLENTA, PUDIM, MINGAU.



QUEM TEM MILHO TEM SORVETE,
MILHO ASSADO E MUNGUNZÁ.
TEM ANGU, SOPA, PIPOCA,
PAMONHA, BROA E FUBÁ!

AZEVEDO, RICARDO. VOCÊ ME LEMBROU DE FEIO, SOU FEIOMAS
SOU DENGOSO! SÃO PAULO: MODERNA, P. 15.

1) LEIA COM ATENÇÃO E FAÇA O QUE SE PEDE:

A) O POEMA TEM ____ ESTROFES E ____ VERSOS.

B) O TÍTULO DO TEXTO É: _____

C) QUEM É O AUTOR? _____

D) GRIFE AS RIMAS.

2) PREENCHA O QUADRO COM AS PALAVRAS DO POEMA:

PALAVRAS COM M EM FINAL DE SÍLABA	PALAVRAS COM N EM FINAL DE SÍLABA

3) LEIA AS PALAVRAS ABAIXO E PINTE AS LETRAS QUE VEM DEPOIS DA LETRA M:

CAMPO	LÂMPADA	COMPUTADOR	SOMBRA
EMBAIXO	TEMPO	TEMPERO	TROMBA
CARIMBO	UMBIGO	TAMBOR	BOMBA

4) COMPLETE AS PALAVRAS ABAIXO COM M OU N.

CA____ PINA

TRO____ CO

CI____ TURA

MA____ SO

TA____ BORETE

PO____ BA

VALE____ TE

SEGU____ DO

LI____ PEZA

I____ POSTO

SENE____ TE

E____ BRULHAR

E____ BLEMA

CA____ BALHOTA

MORA____ GO


PI____ ÇAR

PIME____ TA

E____ BAIXO

TE____ PESTADE

MA____ DIOCA





ATIVIDADE 02:

ALUNO (A): (NOME COMPLETO): _____

FESTA NO CÉU



CERTO DIA, TODAS AS AVES FORAM CONVIDADAS PARA UMA FESTA NO CÉU. SEU SAPO NÃO FOI CONVIDADO E FICOU CHATEADO, MAS ELE TEVE UMA IDEIA: PODIA IR À FESTA PEGANDO CARONA NO VIOLÃO DO URUBU.

NO DIA SEGUINTE, SEM QUE O URUBU PERCEBESSE, O SAPO ENTROU NO VIOLÃO E FICOU QUIETINHO.

“QUE ENGRAÇADO, ESTE VIOLÃO ESTÁ PESADO”. PENSOU O URUBU, E VOOU PELO CÉU...

CHEGANDO AO CÉU, O URUBU COLOCOU O VIOLÃO NUM CANTO DA SALA E O SAPO SAIU.

QUE SURPRESA PARA AS AVES A PRESENÇA DE UM SAPO NA FESTA! TODOS QUERIAM SABER COMO ELE TINHA CHEGADO, MAS ELE SÓ DIZIA:

-É SEGREDO, É SEGREDO ...

AS AVES SE REUNIRAM E RESOLVERAM EXPULSAR O SAPO DIZENDO:

-VOCÊ NÃO É AVE, NÃO FOI CONVIDADO E TEM A BOCA GRANDE, VOMOS JOGÁ-LO LÁ EM BAIXO.

ASSIM FIZERAM, O SAPO CAIU DE COSTA NA ÁGUA SEM SE MACHUCAR.

O SAPO APRENDEU A LIÇÃO E NUNCA MAIS FOI A UMA FESTA SEM SER CONVIDADO.

1-QUAL É A PERSONAGEM PRINCIPAL DA HISTÓRIA? _____

2-ONDE SE PASSA A HISTÓRIA? _____

3-ONDE O SAPO SE ESCONDEU? _____

4-QUEM ERA O DONO DO VIOLÃO? _____

5-POR QUE O VIOLÃO FICOU PESADO? _____

6-QUAL FOI A LIÇÃO QUE O SAPO APRENDEU? _____



ATIVIDADE 03:

ALUNO (A): (NOME COMPLETO): _____

1) LEIA O TEXTO.

OS AMIGOS INSEPARÁVEIS

ESTES SÃO PEDRO E SOFIA. ELES ESTUDAM NA MESMA ESCOLA DESDE O BERÇÁRIO E JÁ ESTÃO NO 3º ANO.

OS DOIS ESTÃO SEMPRE JUNTOS EM SALA DE AULA E NAS AULAS DE EDUCAÇÃO FÍSICA, NO PÁTIO.

HOJE A PROFESSORA DE EDUCAÇÃO FÍSICA FEZ UMA BRINCADEIRA DE CORRER COM A PERNA AMARRADA À UM AMIGO, E MAIS UMA VEZ, ESTÃO ELES JUNTOS.

SOFIA E PEDRO ESTAVAM QUASE GANHANDO A CORRIDA QUANDO DE REPENTE, A MENINA CAI. MAS PEDRO NEM IMPORTOU EM GANHAR, FOI LOGO ACUDIR A AMIGA COM TODO O CARINHO DO MUNDO.



ISABEL CRISTINA S. SOARES.

1) NUMERE OS PARÁGRAFOS.

2) QUAL É O TÍTULO DO TEXTO:

3) QUE OUTRO TÍTULO VOCÊ DARIA AO TEXTO?

4) RESPONDA:

A) DESDE QUANDO AS CRIANÇAS ESTUDAM JUNTAS? _____

B) ONDE ACONTECEM AS AULAS DE EDUCAÇÃO FÍSICA?

5) NUMERE OS FATOS DE ACORDO COM OS ACONTECIMENTOS NO TEXTO.


- () SOFIA CAIU E ELES PERDERAM A CORRIDA.
- () OS DOIS AMIGUINHOS ESTUDAM NA MESMA ESCOLA.
- () SOFIA E PEDRO ESTAVAM QUASE GANHANDO A CORRIDA.
- () ESTAS CRIANÇAS SÃO PEDRO E SOFIA.
- () HOJE, NA AULA DE EDUCAÇÃO FÍSICA, A BRINCADEIRA FOI A DE PERNAS AMARRADAS AO AMIGO.

6) MARQUE A RESPOSTA CERTA:

A) NA FRASE: “MAS PEDRO NEM SE IMPORTOU EM GANHAR, FOI LOGO **ACUDIR** A AMIGA COM TODO O CARINHO DO MUNDO”, A PALAVRA GRIFADA SIGNIFICA:

- () GRITAR, XINGAR, ABORRECER.
- () AUXILIAR, SOCORRER, AJUDAR.
- () RIR, FAZER GRACEJOS.

7) VOCÊ TEM UMA AMIZADE IGUAL A DESSAS CRIANÇAS? ESCREVA UM RECADO CARINHOSO PARA ELE OU ELA, NO ESPAÇO ABAIXO.



PROJETO:
“EM CASA TAMBÉM SE APRENDE”
PORTUGUÊS/PRODUÇÃO DE TEXTO
2º ANO DO ENSINO FUNDAMENTAL



ATIVIDADE04:

ALUNO (A): (NOME COMPLETO): _____

1) OBSERVE O DESENHO E RESPONDA:



1) O QUE ELES ESTÃO FESTEJANDO? _____

2) QUAL É O NOME DA MENINA E DO MENINO?

3) COMO ESTÃO VESTIDOS?

4) O QUE ELES ESTÃO FAZENDO? _____

5) QUE TIPO DE COMIDA E BEBIDAS TEM NESSA FESTA? _____

6) COMO ESTÁ ENFEITADA A FESTA?

7) DÊ UM TÍTULO A ESSA HISTÓRIA? _____




ATIVIDADE05:

ALUNO (A): (NOME COMPLETO): _____

ANIMAIS DOMÉSTICOS E ANIMAIS SILVESTRES

OS ANIMAIS SÃO SERES VIVOS.

OS ANIMAIS DOMÉSTICOS SÃO AQUELES QUE VIVEM JUNTO ÀS PESSOAS EM CASAS OU FAZENDAS.

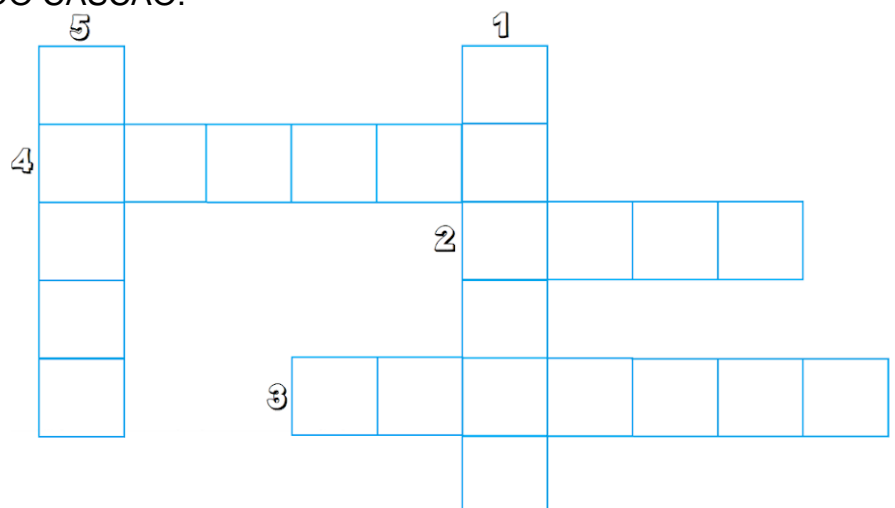


OS ANIMAIS SILVESTRES (SELVAGENS), SÃO AQUELES QUE VIVEM NO LUGAR ONDE NASCERAM, COMO: SELVA, OCEANO, MONTANHAS E OUTROS.



1) COMPLETE A CRUZADINHA COM OS ANIMAIS DOMÉSTICOS QUE VIVEM NA FAZENDA.


- 1 – É UM ANIMAL QUE TEM CRINA.
- 2 – É UM ANIMAL QUE NOS FORNECE LEITE.
- 3 – TEM O CORPO COBERTO DE PENAS
- 4 – É UM ANIMAL QUE FORNECE LÃ.
- 5 – É O ANIMAL DE ESTIMAÇÃO DO CASÇÃO.



2) ENUMERE CORRETAMENTE:

(1) ANIMAIS DOMÉSTICOS

(2) ANIMAIS SILVESTRES



()



()



()



()



()



()

3) COMPLETE COM AS PALAVRAS DO QUADRO ABAIXO:

GALINHA

VACA

ABELHA

OVELHA

A) A _____ NOS DÁ CARNE E LEITE.

B) A _____ FORCECE A LÃ.

C) A _____ PRODUZ O MEL.

D) A _____ NOS DÁ OVOS.

4) ESCREVA O NOME DE 3 AVES:

5) ESCREVA E DESENHE UM ANIMAL QUE RASTEJA.







ATIVIDADE 02:

ALUNO (A): (NOME COMPLETO): _____

1) ESCREVA QUEM VEM ANTES E DEPOIS DE CADA NÚMERO:

	19	
	99	
	200	
	49	
	80	

2) COMPLETE OS QUADRINHOS COM OS NÚMEROS FALTOSOS:











$8 + \square = 15$	$\square + 9 = 14$
$\square + 5 = 12$	$8 + \square = 15$
$7 + \square = 16$	$\square + 6 = 11$
$\square + 2 = 11$	$9 + \square = 12$
$3 + \square = 10$	$\square + 5 = 14$
$\square + 9 = 18$	$6 + \square = 16$
$8 + \square = 16$	$\square + 2 = 10$
$\square + 5 = 13$	$6 + \square = 13$
$8 + \square = 12$	$\square + 7 = 11$


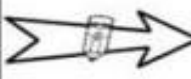

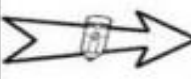

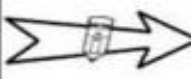

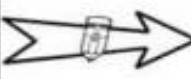

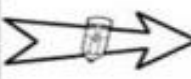

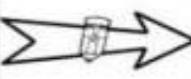

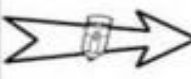

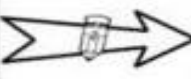

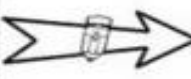

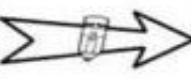


ATIVIDADE 03:

ALUNO (A): (NOME COMPLETO): _____

1) VEJA O QUADRO NUMERADO DE 100 A 140, E ABAIXO SUBSTITUA OS SÍMBOLOS PELOS NÚMEROS FALTOSOS.

100		102	103	104	105		107
108	109		111	112	113	114	
116	117	118		120	121		123
	125		127	128		130	131
132	133	134	135	136	137	138	

		<input type="text"/>			<input type="text"/>
		<input type="text"/>			<input type="text"/>
		<input type="text"/>			<input type="text"/>
		<input type="text"/>			<input type="text"/>
		<input type="text"/>			<input type="text"/>

3-ESCREVA OS NUMERAIS DO QUADRO QUE ESTAVA ESCONDIDO EM PALAVRAS:

- | | |
|---------|----------|
| 1 _____ | 2 _____ |
| 3 _____ | 4 _____ |
| 5 _____ | 6 _____ |
| 7 _____ | 8 _____ |
| 9 _____ | 10 _____ |




ATIVIDADE 04:

ALUNO (A): (NOME COMPLETO): _____

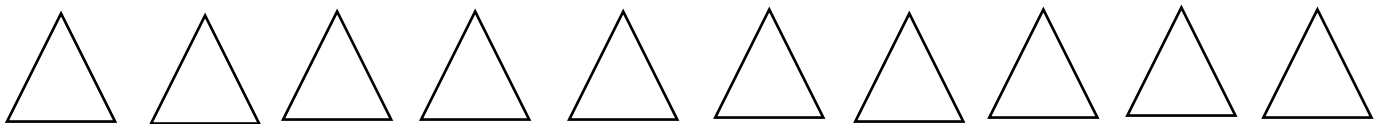
1) PINTE UMA DÚZIA DE ESTRELAS:



2) PINTE MEIA DÚZIA DE CORAÇÕES:



3) PINTE UMA DÚZIA DE TRIÂNGULOS:



4) DESENHE:

A) UMA DEZENA DE BOLINHAS



B) MEIA DEZENA DE BALÃO



C) UMA DÚZIA DE FLORES



D) MEIA DÚZIA DE PIRULITO



5) COMPLETE CORRETAMENTE:




D	U



Quantos grupos de 10? Quantos sobraram?



D	U



Quantos grupos de 10 ? Quantos sobraram?



ATIVIDADE 05:

ALUNO (A): (NOME COMPLETO): _____

1) COMPLETE OS RETÂNGULOS COM AS QUANTIDADES REPRESENTADAS ABAIXO:


a)  10  5  2 _____ reais

b)  50  10  5 _____ reais















c)  10  2  _____ reais

d)  50  5 _____ reais

2) OBSERVE OS RELÓGIOS E MARQUE EMBAIXO DE CADAUM DELES AS HORAS MARCADAS:



3) LIGUE CADA RELÓGIO COM AS HORAS INDICADAS:

	7:15	
	2:30	
	11:45	
	9:00	
	1:15	
	5:30	
	12:45	
	4:00	
	6:15	
	10:30	
	3:45	
	8:00	